



I Olimpíada Paraibana de Educação  
Financeira

*Nível 2 | Fase 1*

Aluno (a):


Escola:

Série:

Turno:



1.



Pedro, Luiza e Mario foram a loja de brinquedos comprar novos brinquedos. Pedro comprou um trem e um cavalinho; Luiza comprou o coelho e os patins; Mario comprou o carrinho e o robô. Levando em conta os preços de cada brinquedo, qual dos três gastou mais dinheiro e menos dinheiro?


- a) Pedro gastou mais e Luiza gastou menos
- b) Luiza gastou mais e Pedro gastou menos
- c) Mario gastou mais e Luiza gastou menos
- d) Luiza gastou mais e Mario gastou menos.
- e) Mario gastou mais e Pedro gastou menos.

2. A família de Lucas irá se unir para presenteá-lo com uma bicicleta e para isso cada membro irá doar uma quantia no valor de R\$ 50,00. Sabendo que o valor da bicicleta é R\$ 350,00 e que seu pai, sua mãe e seus dois irmãos participarão da contribuição, quanto faltará para a compra do brinquedo?

- a) R\$ 130,00
- b) R\$ 150,00
- c) R\$ 125,00
- d) R\$ 180,00
- e) R\$ 145,00



3. Henrique economizou seu dinheiro para conseguir comprar roupas para viajar, ele conseguiu juntar R\$ 150,00. Quanto ele gastará para comprar uma calça, duas blusas e uma meia? Quanto ele receberá de troco?



- a) Ele irá gastar R\$ 130,00 e receberá R\$ 20,00 de troco
- b) Ele irá gastar R\$ 150,00 e não receberá troco
- c) Ele irá gastar R\$ 135,00 e receberá R\$ 15,00 de troco
- d) Ele irá gastar R\$ 100,00 e receberá R\$ 50,00 de troco
- e) Ele irá gastar R\$ 90,00 e receberá R\$ 60,00 de troco

4. Júlia pretende viajar e para isso precisa desembolsar R\$ 600,00. Ela resolveu fazer um brechó com algumas de suas roupas para levantar o valor do custo da viagem.

Vestidos – R\$ 80,00  
Blusas – R\$ 50,00  
Saias – R\$ 45,00



Considerando os preços de vendas acima, quantas peças ela deverá vender para que consiga o valor de sua viagem?

- a) 4 vestidos; 2 blusas e 3 saias
- b) 3 vestidos; 4 blusas e 2 saias
- c) 4 vestidos; 2 blusas e 4 saias
- d) 3 vestidos; 4 blusas e 3 saias
- e) 2 vestidos; 3 blusas e 4 saias



# Nível 2 | Fase 1

3 ao 5 ano do  
Ensino Fundamental I

5. A professora de Pedro passou uma atividade para casa. Ele precisa responder: quais os nomes dos animais que estão nas notas do real?



(1)



(2)



(3)



(4)



(5)



(6)

- a) (1) peixe azul, (2) arara, (3) papagaio, (4) macaco, (5) leão, (6) sardinha  
b) (1) tartaruga de pente, (2) garça branca, (3) arara vermelha, (4) mico leão dourado, (5) onça pintada, (6) garoupa verdadeira  
c) (1) tartaruga, (2) passarinho, (3) garça, (4) saguim, (5) tigre, (6) peixe azul  
d) (1) tatu, (2) ganso, (3) passarinho, (4) mico leão dourado, (5) leão, (6) garoupa verdadeira  
e) (1) tartaruga de pente, (2) garça branca, (3) papagaio, (4) tigre, (5) onça pintada, (6) garoupa verdadeira

6. Marcelo ganha 25 reais por semana e está juntando para comprar uma bicicleta



Se a bicicleta custa 100 reais, Marcelo terá que juntar por quantas semanas para conseguir comprá-la?

- a) 1 Semana  
b) 2 Semanas  
c) 3 Semanas  
d) 4 Semanas  
e) 5 Semanas

7. Ana está poupando seu dinheiro para comprar uma câmera fotográfica, todos os meses ela recebe uma mesada de sua mãe no valor de R\$ 30,00, até agora ela possui a seguinte quantidade:



A câmera custa R\$ 180,00. Quanto falta, em dinheiro, para Ana comprar sua câmera e quantos meses faltam para ela conseguir todo o dinheiro?

- a) Faltam R\$ 60,00 para completar e 2 meses para que ela receba todo o dinheiro.  
b) Faltam R\$ 90,00 para completar e 2 meses para que ela receba todo o dinheiro.  
c) Faltam R\$ 30,00 para completar e 1 mês para que ela receba todo o dinheiro.  
d) Faltam R\$ 90,00 para completar e 3 meses para que ela receba todo o dinheiro.  
e) Faltam R\$ 60,00 para completar e 3 meses para que ela receba todo o dinheiro.

8. Marina, Ana e Bia são amigas e costumam ir ao shopping fazer compras. Ao entrarem em uma loja de roupas se depararam com os seguintes preços:

Blusa Estampada – R\$ 40,00  
Vestido Listrado – R\$ 70,00  
Saia Rendada – R\$ 50,00

Considerando que Marina comprou 1 vestido e 2 blusas, Ana comprou 1 vestido e 2 saias, e Bia uma peça de cada, assinale a alternativa correta:

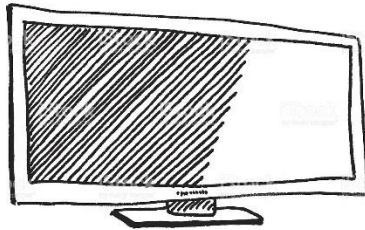
- a) Bia e Ana gastaram o mesmo valor  
b) Marina foi a que mais gastou  
c) Marina e Ana gastaram mais que Bia  
d) Ana foi a que mais gastou  
e) Bia e Ana foram as que menos gastaram

9. João adora ler e está economizando para comprar um livro e aumentar a sua coleção. Ele já foi à livraria e constatou que o livro desejado está custando R\$ 80,00. Ao consultar o seu cofre ele verificou que tem duas cédulas de R\$ 20,00, uma de R\$ 10,00 e uma de R\$ 5,00. Quanto falta para ele comprar o livro?

- a) R\$ 35,00
- b) R\$ 27,00
- c) R\$ 25,00
- d) R\$ 30,00
- e) R\$ 37,00

10. Paula recebe de seus pais R\$ 100,00 todo mês, e está pretendendo comprar uma televisão nova para seu quarto. Sabendo que Paula já possui R\$ 300,00 e a televisão custa R\$ 900,00, em quanto tempo Paula terá o dinheiro para efetuar a compra?

- a) 1 ano
- b) 6 meses
- c) 8 meses
- d) 3 meses
- e) 5 meses



11. Em um supermercado conhecido da cidade de João Pessoa, meia dúzia de ovos custam R\$7,89 reais. Quanto custam 3 dúzias?

- a) R\$ 15,78
- b) R\$ 23,67
- c) R\$ 25,71
- d) R\$ 47,34
- e) R\$ 63,12



12. A mãe de José mandou o mesmo ir à padaria com o valor de R\$ 18,40. Quando chegou lá ele comprou uma caixa de leite que custava R\$ 3,50; 10 pães que custaram R\$ 5,90; 5 ovos que somaram R\$ 2,75. Quanto sobrou?

- a) 24,50
- b) 5,50
- c) 6,55
- d) 5,25
- e) 6,25

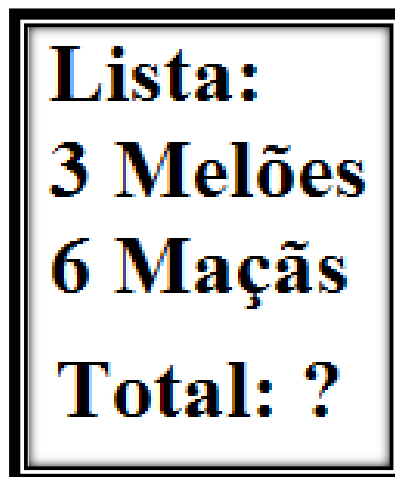
13.



Na tirinha percebemos um humor pelo fato do Calvin não entender o valor do dinheiro que o seu pai estava tentando explicar. Em relação a tirinha, marque a alternativa que melhor expressa o valor do dinheiro segundo o pai.

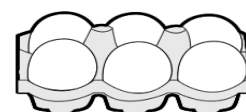
- a) O pai quis dizer que cada cédula tem um valor diferente. Exemplo: a cédula de R\$ 20,00 é mais valiosa que a de R\$ 10,00.
- b) O pai quis dizer que o valor do dinheiro não é tão importante quanto a amizade.
- c) O pai quis dizer que o dinheiro é o recurso mais valioso do mundo.
- d) O pai quis dizer que é difícil ganhar dinheiro, logo se precisa economizar e gastar sabiamente para que ele não passe por dificuldade.
- e) O pai quis dizer que o valor do dinheiro é muito importante, pois traz poder e se pode fazer o que quiser.

14. Mônica foi à feira com seus pais para comprar frutas. Ela precisa saber quanto vai pagar pela compra. Foram 3 melões por R\$ 5,00 reais cada e 6 maçãs por R\$ 5,00 reais. Qual o total da lista de compras de Mônica?



- a) Total: R\$ 25,00 reais
- b) Total: R\$ 20,00 reais
- c) Total: R\$ 15,00 reais
- d) Total: R\$ 30,00 reais
- e) Total: R\$ 45,00 reais

15. Ícaro vai fazer a feira do mês e precisa saber quanto receberá de troco, respectivamente, se pagar da forma apresentada na imagem abaixo.



	1 KG FEIJÃO	1 KG ARROZ	1 LITRO DE LEITE	MEIA DÚZIA DE OVOS
VALOR	R\$ 6,00	R\$ 9,00	R\$ 3,00	R\$ 2,00
PAGAMENTO	R\$ 10,00	R\$ 20,00	R\$ 5,00	R\$ 2,00

- a) R\$ 4,00; R\$ 11,00; R\$2,00; R\$ 0,00
- b) R\$ 6,00; R\$ 11,00 R\$ 3,00; R\$ 2,00
- c) R\$ 10,00; R\$10,00; R\$ 4,00; R\$ 0,00
- d) R\$ 8,00; R\$9,00; R\$ 2,00; R\$1,00
- e) R\$ 9,00; R\$10,00; R\$4,00; R\$ 4,00