



ATENÇÃO: Este caderno contém 40 questões objetivas e uma questão de redação. Preencha, na **FOLHA DE RESPOSTA**, o espaço correspondente à alternativa escolhida como resposta em cada questão objetiva. A redação deverá ser escrita na **FOLHA DE REDAÇÃO**. Utilize somente caneta esferográfica de tinta preta.

Duração da Prova: 4 horas

I – LÍNGUA PORTUGUESA E LITERATURA BRASILEIRA

Leia o texto a seguir, para responder às questões de 1 a 5.

Quem não anuncia se esconde

1 Há mais mistérios entre o céu e a terra do que sabe a nossa filosofia e há mais gente lendo
diariamente os classificados do *Jornal do Brasil* de ponta a ponta do que podemos imaginar. Uns o fazem
em busca de algo perdido para ver se alguém o encontrou, outros o fazem por alguma coisa achada para
4 ver quanto oferece de prêmio quem a perdeu, outros querem simplesmente o sonho de uma casa em que
morar, alguns procuram um braço para o trabalho, outros oferecem o braço procurado e muitos lêem de
simples curiosidade, observando da platéia o tumulto de ofertas, procuras, danos, misérias, cobiça,
abandono e busca de que as páginas classificadas estão cheias.

8 Tudo pode surgir ali, de toda forma: "Vende-se Pêlo-de-Arame, com dois meses de idade."
"Compra-se louça portuguesa." "Senhora, jovem e sem compromisso, oferece-se para tomar conta de
apartamento de senhor de fino trato." "Precisa-se de elefante para propaganda de inseticida." "Vende-se
450 litros de perfume francês - Chanel 5."

12 A linguagem é quase sempre dúbia, muito por incapacidade de redigir, muito por manha, a fim de
apanhar o tolo que lê e conduzi-lo entusiasmado à emboscada da compra errada ou do aluguel em local
impróprio. Os eufemismos já são convencionais e qualquer leitor sabe que "Aluga-se casa, passando-se
pequenos móveis" quer dizer "luvas" e "Cavalheiro só, necessitando de moça independente para
16 secretária" significa conquistador barato em lance livre. Da mesma maneira "Casa necessitando pequenos
consertos, aluga-se barato a quem der referências" significa "Precisa-se de carpinteiro que deseje passar o
resto de sua vida consertando de graça casa alheia" e "Vende-se propriedade com água corrente" pode
muitas vezes significar que a água corrente cai do teto.

20 Nem sempre, porém, a desconfiança é boa conselheira, pois "Cavalheiro de fino trato, desejando
alugar rapidamente apartamento mobiliado por motivo de viagem" pode ser realmente um sujeito que vai
viajar, e "Senhora só, necessitando empregada para pequenos serviços" pode viver realmente sozinha e
precisar mesmo de empregada para uma ou outra coisa, sem mais embuste. Na verdade, os anúncios não
24 têm maior sentido de exploração do que tudo o mais e se a própria vida é má e dura ainda dá margem a
que surja de vez em quando um poeta anunciando em versos, um jovem procurando ansiosamente a
"morena de olhos verdes que dançou comigo no Baile do Municipal de 2 às 2h45", ou uma velha que só
deseja saber quem encontrou "um retrato de homem de bigodes grandes, tendo atrás a data 18-9-1922",
28 única recordação talvez de um morto estimado que soube, possivelmente, ter a graça de viver pouco.

E é, aliás, dentro do sentido pessoal do anúncio que o observador casual ou experimentado
encontra a maior soma de material para o psicólogo, o filósofo, o censor, o artista ou qualquer outro
especialista em alma humana. Pois há os que oferecem o filho para adoção e há os que desejam de
32 qualquer maneira adotar um filho, há os que pedem a volta da esposa transviada de qualquer maneira,
pois a "compreendem e perdoam", há os que anunciam ao irmão vindo do norte que tiveram de mudar de
endereço subitamente e que, pelo amor de Deus, os procure no Cachambi, enquanto muitos têm apenas o
desejo de oferecer préstimos, habilidades e a própria dignidade, em troca da possibilidade pura de viver -
36 "casa, comida e pequeno ordenado, dorme-se no emprego".

Há os patéticos. Esses anunciam em letras maiores e pagam mais para que todos saibam que
morreu "Lalá, aos três anos de idade" e convidam todos os parentes e amigos para o seu enterro, às 5
horas da tarde. Lalá resulta um cachorrinho de alguma raça e alguma estimação mas talvez nem tanto de
40 uma ou de outra quanto o anúncio quer fazer supor. Usam ainda termos como "desesperado" quando
procuram empregos, "às portas da morte" quando precisam internação em hospital devido a uma

apendicite comum, e "viúva, com três filhos" sem dizer que o marido, além dos filhos, deixou um monte-pio pequeno, mas que dá para comer e morar.

44 Há os humoristas. Põem para alugar o apartamento do amigo por um aluguel baixíssimo, sem "luvas", ou com "luvas" bem módicas para acrescentar realidade à oferta, e morrem de rir quando o amigo mais tarde lhes conta inocentemente o dia monstruoso que passou atendendo pretendentes. 48 Gostam também de anunciar a compra de árvores de Natal depois do Natal, ou casca de nozes para indústria. E anunciam a dentadura do avô, põem à venda uma perna mecânica com todos os movimentos, as primeiras provas tipográficas da "Odisséia", e "uma escova de dentes de estimação".

52 Ninguém pode medir até onde vai a influência desses pequenos anúncios classificados, arrumados compactamente e a alto preço em algumas dezenas de páginas de um jornal de tiragem não muito elevada. Como também é impossível calcular a soma de desonestidade intencional ou refletida, de má-fé, dolo, chicana ou quaisquer outros termos jurídicos que circulam em suas linhas. No meio da gente que anuncia seriamente, por necessidade ou negócio, há um milhão de pessoas tentando comunicações estranhas, contatos escusos, empreitadas impossíveis. E prometendo, seduzindo, convencendo, tentando de todas as 56 formas.

Se você tiver a paciência e a habilidade suficiente para ler e perceber a orgia de seiva vital que corre por essas páginas, ali você encontrará realmente tudo.

60 Pegue uma tesoura, como nós fizemos, vá recortando e colando. Dentro de alguns dias você terá, armado cuidadosamente em quadrinhos de quebra-cabeça, o mapa completo dessa coisa danada que se chama civilização.

FERNANDES, Millôr. **Circo de palavras**. São Paulo: Ática, 2007, p. 79-83.

1. No texto *"Quem não anuncia se esconde"*, comenta-se o que aparece nos classificados do Jornal do Brasil. Nesse contexto, os anúncios
 - a) têm o objetivo exclusivo de divertir o leitor, visto que tratam apenas de situações engraçadas.
 - b) apresentam uma linguagem quase sempre dúbia, apropriada para o convencimento e para a sedução dos leitores.
 - c) servem constantemente a intenções escusas, pois, como toda propaganda, envolvem a desonestidade intencional para persuadir o leitor.
 - d) voltam-se especificamente para a oferta e a compra de produtos e, por isso, interessam a especialistas que estudam a alma humana.
 - e) são textos de maior força de exploração no espaço do jornal, por isso contam com um número reduzido de leitores.

2. Considerando os fragmentos a seguir, verifica-se o uso do recurso da intertextualidade em:
 - a) *"Há mais mistérios entre o céu e a terra do que sabe a nossa filosofia e há mais gente lendo diariamente os classificados do Jornal do Brasil de ponta a ponta do que podemos imaginar."* (linhas 1 - 2)
 - b) *"A linguagem é quase sempre dúbia, muito por incapacidade de redigir, muito por manha, a fim de apanhar o tolo que lê e conduzi-lo entusiasmado à emboscada da compra errada ou do aluguel em local impróprio."* (linhas 12 - 14)
 - c) *"E é, aliás, dentro do sentido pessoal do anúncio que o observador casual ou experimentado encontra a maior soma de material para o psicólogo, o filósofo, o censor, o artista ou qualquer outro especialista em alma humana."* (linhas 29 - 31)
 - d) *"Gostam também de anunciar a compra de árvores de Natal depois do Natal, ou casca de nozes para indústria."* (linhas 47 - 48)
 - e) *"Ninguém pode medir até onde vai a influência desses pequenos anúncios classificados, arrumados compactamente e a alto preço em algumas dezenas de páginas de um jornal de tiragem não muito elevada."* (linhas 50 - 51)

3. Em relação ao texto, considerando-se o gênero e os recursos de linguagem utilizados, é correto afirmar:
 - a) É um conto literário, apresentando fatos que seguem uma ordem cronológica.
 - b) Recorre ao uso de uma linguagem bastante informal, adequando-se à natureza do texto jornalístico.
 - c) É uma crônica literária, em que o narrador faz, com humor, comentários sobre o assunto abordado.
 - d) É narrado em terceira pessoa, pois os fatos se apresentam por si mesmos.
 - e) É uma crônica jornalística, cuja finalidade única é informar o leitor de que *"Quem não anuncia se esconde."*

4. Leia:

*"Há mais mistérios entre o céu e a terra do que sabe a nossa filosofia e há mais gente lendo diariamente os classificados do Jornal do Brasil de ponta a ponta do que podemos imaginar. Uns **o** fazem em busca de algo perdido para ver se alguém **o** encontrou, outros **o** fazem por alguma coisa achada para ver quanto oferece de prêmio quem a perdeu, outros querem simplesmente o sonho de uma casa em que morar, [...]." (linhas 1 - 5)*

Considerando as ocorrências do termo "o" em destaque nesse fragmento, é correto afirmar:

- a) Na primeira, o termo retoma a expressão "Jornal do Brasil".
 - b) Na segunda, o termo pode ser substituído por "ele", mantendo-se o mesmo nível de linguagem.
 - c) Na terceira, o termo pode ser substituído por "lhe", mantendo-se o mesmo sentido.
 - d) Na primeira e na terceira, o termo estabelece a coesão textual, retomando o mesmo referente.
 - e) Nas três ocorrências, o termo desempenha funções sintáticas diferentes.
5. No fragmento "Precisa-se de elefante para propaganda de inseticida." (linha 10), o termo "se" apresenta o mesmo comportamento sintático do "se" destacado em:
- a) "Vende-**se** Pêlo-de-Arame, com dois meses de idade." (linha 8)
 - b) "Compra-**se** louça portuguesa." (linha 9)
 - c) "Senhora, jovem e sem compromisso, oferece-**se** para tomar conta de apartamento de senhor de fino trato." (linhas 9 - 10)
 - d) "Casa necessitando pequenos consertos, aluga-**se** barato a quem der referências [...]" (linhas 16 - 17)
 - e) "[...] casa, comida e pequeno ordenado, dorme-**se** no emprego." (linha 36)

II – REDAÇÃO

ORIENTAÇÕES GERAIS

- Mantenha fidelidade ao TEMA e ao GÊNERO propostos para a redação.
- Apresente letra legível, utilizando caneta esferográfica de tinta preta.
- Faça rascunho, se necessário, na página 5 deste Caderno de Questões, no entanto, **O RASCUNHO NÃO SERÁ CORRIGIDO.**
- Desenvolva seu texto no espaço indicado na **FOLHA DE REDAÇÃO.**

Leia o informe publicitário a seguir:



A saúde está mais perto dos brasileiros.

As Unidades Básicas de Saúde estão preparadas para realizar a maior parte dos atendimentos em saúde.

As Unidades Básicas de Saúde do SUS estão presentes em todos os municípios do país. São **38 mil unidades** e mais de **430 mil profissionais** (agentes de saúde, enfermeiros, médicos, dentistas entre outros).

SAÚDE MAIS PERTO DE VOCÊ SUS Ministério da Saúde GOVERNO FEDERAL BRASIL PAÍS RICO É PAÍS SEM POBREZA

REVISTA VEJA. São Paulo: Editora Abril, Ed. 2245, ano 44, n. 48, 30 de nov. 2011, p.169. (Adaptado).

A partir da leitura, redija um texto **relacionando as informações veiculadas nesse informe à realidade da assistência governamental à saúde no país.** Para tanto, observe as seguintes orientações:

- Apresente o seu ponto de vista acerca do assunto tratado;
- Redija seu texto com, no mínimo, 15 linhas e, no máximo, 20 linhas;
- Use a norma padrão da língua escrita.

RASCUNHO DA REDAÇÃO

01 _____

02 _____

03 _____

04 _____

05 _____

06 _____

07 _____

08 _____

09 _____

10 _____

11 _____

12 _____

13 _____

14 _____

15 _____

16 _____

17 _____

18 _____

19 _____

20 _____

III – GEOGRAFIA GERAL E DO BRASIL

6. Existem diferentes critérios utilizados para se regionalizar o espaço geográfico. No Brasil, o Instituto Brasileiro de Geografia e Estatística (IBGE) utiliza-se de alguns critérios para determinar sua regionalização que é usada na difusão dos dados gerais sobre o país.

Nesse sentido, identifique o critério utilizado pelo IBGE na regionalização oficial do Brasil e as respectivas regiões decorrentes desse critério:

	Critério	Regiões
a)	Fitogeográfico	Semi-árida, Pantaneira, Tropical e Equatorial
b)	Geoconômico	Norte, Nordeste, Sul e Sudeste
c)	Geográfico	Norte, Nordeste, Centro-Oeste, Sudeste e Sul
d)	Geoconômico	Norte, Centro-Sul, Leste Setentrional, Leste Meridional, Nordeste e Sul
e)	Econômico	Amazônia, Nordeste, Centro-Oeste e Concentrada

7. Parte da população brasileira que, entre as décadas de 1980 e 2000, havia emigrado para os países ricos, tem retornado nos últimos anos ao Brasil.

Entre os fatores motivadores desse retorno, destaca(m)-se:

- a) O comportamento preconceituoso e atitudes arredias dos grupos sociais de direita nos países ricos, inexistentes no passado.
 - b) A crise econômica nos países desenvolvidos, especialmente, nos Estados Unidos, Japão e em países da Europa.
 - c) O aumento da violência contra os imigrantes que são alvos de atentados terroristas, desencadeados pelo 11 de Setembro.
 - d) O perigo decorrente do aumento de acidentes naturais nos países do norte, tais como, os tufões nos Estados Unidos e o Tsunami no Japão.
 - e) A descoberta de poços de petróleo no Brasil e a consequente ampliação da oferta de emprego para todas as áreas no país.
8. No atual contexto da globalização, houve uma reorganização da distribuição da produção industrial pelo mundo. Nesse contexto, considerando essa reorganização decorrente da globalização, é correto afirmar:
- a) Os países emergentes que possuem infraestrutura, mão de obra barata e matérias primas abundantes receberam parte das indústrias antes instaladas nos países ricos.
 - b) Os países ricos deixaram de se interessar pela produção fabril, porque, com essa medida, livraram-se dos problemas ambientais.
 - c) Os países mais pobres receberam a maior parte das fábricas oriundas dos países ricos, garantindo, assim, o seu desenvolvimento econômico e social.
 - d) Os países ricos instalaram nos países emergentes apenas equipamentos fabris sucateados, temerosos de um possível desenvolvimento desses países.
 - e) Os países ricos apenas enviaram seus parques industriais para países onde a democracia já estava instalada e consolidada.

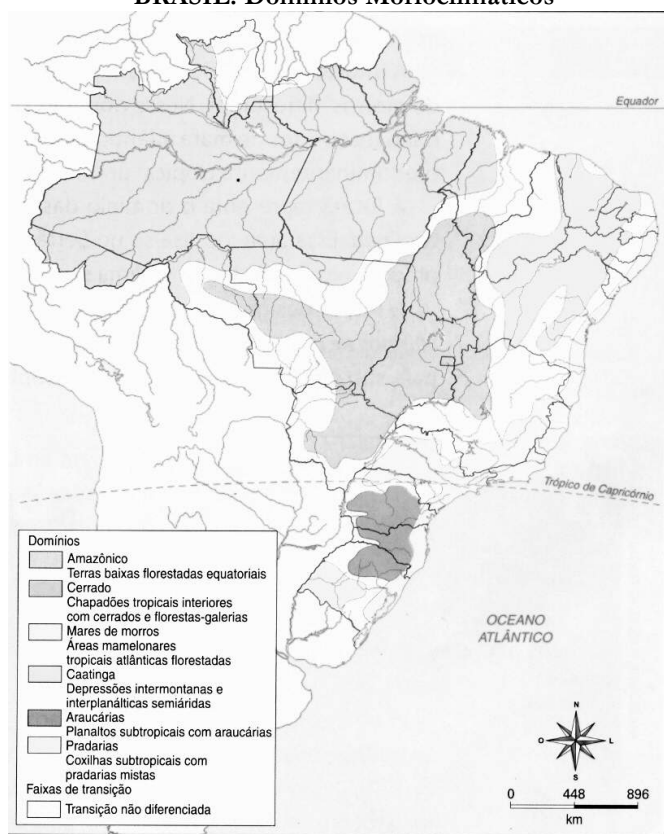
9. Atualmente, a relação entre o campo e a cidade é de interdependência. Com o ingresso do modo capitalista de produção no campo, as relações de trabalho incorporaram características fabris.

Sobre as relações de trabalho no campo, é correto afirmar:

- a) As horas de trabalho estão diretamente ligadas aos aspectos naturais, de modo que os horários são definidos pelo “nascer e por do sol”.
- b) O trabalho escravo foi banido dos campos, pois, no capitalismo, as relações são assalariadas.
- c) O trabalhador rural assalariado deve cumprir a mesma carga horária de um trabalhar fabril e goza dos mesmos direitos trabalhistas.
- d) O trabalhador rural assalariado, diferentemente do urbano, tem a garantia legal de residir gratuitamente em seu local de trabalho.

10. O conceito de domínios morfoclimáticos foi elaborado pelo geógrafo brasileiro Aziz Ab'Saber. Para este pesquisador, o Brasil pode ser dividido conforme representação do mapa a seguir:

BRASIL: Domínios Morfoclimáticos



Fonte: AB'SABER, Aziz. Províncias Geológicas e domínios morfoclimáticos do Brasil. São Paulo: IG/USP, 1970

A classificação utilizada pelo autor tem como base os seguintes elementos:

- Clima, relevo, hidrografia e ação antrópica.
- Solos, relevo, vegetação, hidrografia e clima.
- Localização, altitude, hidrografia e clima.
- Biodiversidade, clima e ação antrópica.
- Hipsometria, hidrografia, relevo e vegetação.

IV – HISTÓRIA GERAL E DO BRASIL

11. Na antiguidade clássica, a disputa entre dois modelos de sociedade deu origem à hibridização cultural que ficou conhecida como cultura Greco-Romana. É importante ressaltar que, mesmo tendo semelhanças e continuidades, esse processo foi marcado, também, por descontinuidades e rupturas.

Nesse contexto, considerando a cultura Greco-Romana, é correto afirmar:

- A organização estatal tem traços semelhantes e, tanto em Roma quanto na Grécia, o poder era descentralizado entre vários principados.
- A arquitetura romana diferenciava-se da grega, devido à praticidade dos gregos, em oposição ao ideário de perfeição de detalhes e pouca aplicabilidade prática, característica do povo romano.
- Os romanos, ao adotarem os deuses gregos, dando-lhes outra nomenclatura, revelam traços de sincretismo religioso e de politeísmo.
- A influência romana no teatro é maior, já que os gregos, preocupados com a defesa dos seus territórios, não priorizaram esse tipo de atividade cultural.
- As disputas entre atletas, conhecidas na época como jogos olímpicos, originaram-se nos palácios romanos, posteriormente, espalharam-se pelas cidades gregas e chegaram até a atualidade.

12. Feudalismo é a denominação mais usual para designar o modelo de organização sócio-político e econômico, predominante na Europa Ocidental, durante a Idade Média.

Sobre o mundo feudal e seus acontecimentos, é correto afirmar:

- a) No mundo feudal, diferentemente da sociedade escravista Greco-Romana, o trabalho no campo era muito valorizado e representava a única oportunidade de ascensão social.
 - b) Durante o período conhecido como alta Idade Média, a abundância de metais preciosos, especialmente a prata e o ouro, foi fator determinante para a expansão comercial dentro e fora do continente.
 - c) Na segunda metade do século X, a Igreja Católica realizou um concílio de avaliação e, percebendo os enormes gastos e a inutilidade das guerras externas, proibiu a incursão de feiis a outras regiões.
 - d) No século XIV, ocorreram crises demográfica e agrária as quais, do ponto de vista econômico, são consideradas fatores de desestruturação do sistema feudal.
 - e) Na baixa idade média, a aliança entre a nobreza, o clero e os burgueses garantiu a expansão do sistema feudal para fora da Europa, levando esse sistema até o Continente americano.
13. No século XVIII, surge uma proposta de organização da economia denominada de liberalismo. Essa nova teoria econômica tem como característica marcante:

- a) A crítica a toda forma de monopólio, inclusive o das metrópoles sobre as colônias.
- b) O aumento da presença do estado na sociedade, com a diminuição das liberdades individuais.
- c) A defesa do absolutismo monárquico, exposta como única forma de evitar a luta de classes.
- d) O fortalecimento do mercantilismo, visando a monetarização e a promoção da acumulação primitiva.
- e) A criação do pacto social em que os padrões coletivos deveriam substituir os impulsos individuais.

14. Os anos de 1920 são muito importantes para a cronologia histórica do Brasil, em especial o ano de 1922.

Sobre os acontecimentos ocorridos nessa década, é correto afirmar:

- a) A criação do Centro Dom Vital determina os rumos do enfrentamento entre as oligarquias dissidentes e os representantes mineiros e paulistas.
 - b) A campanha civilista de Nilo Peçanha, mesmo sendo derrotada, pode ser considerada como um fator de desestabilização da política de alianças, popularmente conhecida como “café com leite”.
 - c) O movimento tenentista, sob a coordenação de Miguel Costa e Julio Prestes, sela um pacto com os políticos tradicionais da República e passa a defender a candidatura de Artur Bernardes.
 - d) A semana de Artes Moderna, ocorrida na capital da República, traz ao Brasil elementos da cultura européia tradicional, dinamizando o mundo das artes no país.
 - e) O fortalecimento do movimento anarquista, inspirado na revolução Russa, dá uma nova dimensão ao movimento operário que estava, até esse momento, sob controle do Partido Comunista do Brasil (PCB).
15. Os anos 60 do século passado foram marcados por muita agitação no Brasil. Entre os acontecimentos dessa década, está o governo de Jânio Quadros. Embora tenha ficado pouco tempo na Presidência da República, esse governante, em função de sua forma de administrar, passou para a história como um dos mais controversos.

Sobre Jânio Quadros e seu governo, é correto afirmar:

- a) Manteve-se fiel ao seu discurso socialista e liberal, permanecendo alinhado à União Soviética e à China, afastando-se dos Estados Unidos.
- b) Adotou medidas esdrúxulas, como a obrigatoriedade da utilização de biquínis em concurso de miss e a liberação de lança-perfumes em bailes carnavalescos.
- c) Mudou a política externa, saindo da dicotomia imposta pela guerra fria e ampliando as possibilidades de relações comerciais do país.
- d) Fez um governo marcado pelo crescimento econômico, o fim da corrupção, o controle inflacionário e pela estabilidade política.
- e) Conseguiu aprovar no Congresso nacional a lei antitruste, o estatuto do trabalhador rural e a lei de limitação da remessa de lucros para o exterior.

V – MATEMÁTICA

16. Em uma cidade, foi feita uma pesquisa acerca da preferência dos moradores em relação a dois jornais locais: Tribuna da Imprensa e Gazeta de Notícias. Nessa pesquisa, envolvendo 5000 entrevistados, constatou-se que:

- 2500 eram leitores da Tribuna da Imprensa;
- 200 eram leitores de ambos os jornais;
- 1800 não liam nenhum dos dois jornais.

Nesse contexto, conclui-se que o número de pessoas que leem apenas a Gazeta de notícias é:

- a) 400 b) 500 c) 600 d) 700 e) 800

17. Um caixa eletrônico está trabalhando apenas com cédulas de R\$50,00 e de R\$100,00. Uma pessoa efetuou um saque retirando 20 notas, num total de R\$1400,00.

Com base nessas informações, o número de cédulas de R\$50,00 retiradas pertence ao intervalo:

- a) $[1, 3]$ b) $[4, 6]$ c) $[7, 9]$ d) $[10, 13]$ e) $[14, 17]$

18. O movimento de um projétil é descrito pela função quadrática $h(t) = 160t - 5t^2$. Nessa função, $h(t)$ representa a altura (em metros) do projétil em relação ao solo no tempo t (em segundos).

Nesse contexto, é correto afirmar que, após o seu lançamento, o projétil atingirá o solo no instante:

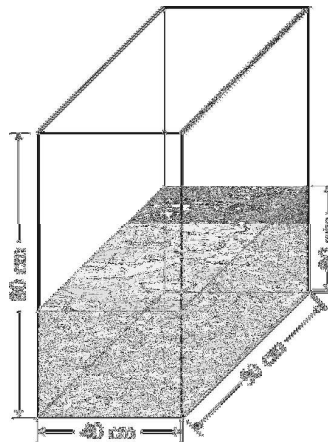
- a) 24s b) 28s c) 32s d) 36s e) 40s

19. Considerando a função $y = 20 + 5\text{sen}(x)$, com $x \in [0, 2\pi]$, é correto afirmar:

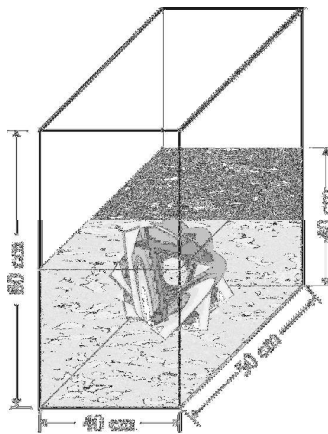
- a) O valor máximo atingido por essa função é 26.
- b) O valor mínimo atingido por essa função é 14.
- c) Os valores assumidos por y nos pontos $x = 0$ e $x = 2\pi$ são diferentes.
- d) O gráfico dessa função corta o eixo- x em dois pontos.
- e) O valor $y = 15$ é atingido em apenas um valor de x .

RASCUNHO

20. Um recipiente em formato de paralelepípedo reto-retângulo mede 80cm de altura $40\text{cm} \times 50\text{cm}$ de base e está com água até a altura 30cm , conforme figura a seguir.



Nesse recipiente, mergulha-se um objeto de modo que o nível da água aumenta em 10cm , conforme representação a seguir:



A partir do exposto, conclui-se que o volume do objeto mergulhado é de:

- a) 10 litros b) 20 litros c) 30 litros d) 40 litros e) 50 litros

VI – FÍSICA

21. Considere os vetores **A**, **B** e **C**, sendo **C** definido como a soma vetorial dos dois primeiros, e um escalar, k . Sobre operações envolvendo esses vetores e o escalar, é correto afirmar:
- a) O módulo de **C** é sempre igual à soma dos módulos dos vetores **A** e **B**.
 - b) O módulo de **C** é sempre igual à diferença dos módulos dos vetores **A** e **B**.
 - c) Se os vetores **A** e **B** forem multiplicados pelo escalar k , o módulo de **C** será também multiplicado por k .
 - d) Se apenas o vetor **A** for multiplicado pelo escalar k , o módulo de **C** também será multiplicado por k .
 - e) Se os vetores **A** e **B** tiverem as mesmas direções, o módulo de **C** será sempre maior do que os módulos dos vetores **A** e **B**.
22. Em um intervalo de tempo de 10 segundos, a velocidade de um carro, movendo-se em linha reta, varia de 72km/h para 144km/h .

Nesse contexto, é correto afirmar que a aceleração média desenvolvida por esse carro é:

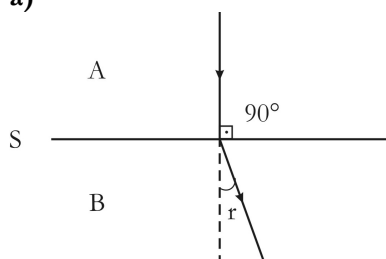
- a) $2,0\text{m/s}^2$ b) $6,0\text{m/s}^2$ c) $7,2\text{m/s}^2$ d) $14,4\text{m/s}^2$ e) $21,6\text{m/s}^2$

23. Em um parque de diversões, um carrinho desliza sobre os trilhos de uma montanha russa. Em dois pontos distintos, a sua velocidade aumenta de 10m/s para 20m/s . Admitindo-se que a aceleração da gravidade, g , seja igual a 10m/s^2 , desprezando o atrito e a resistência do ar, é correto afirmar que o módulo da variação de altura sofrida por esse carrinho é:

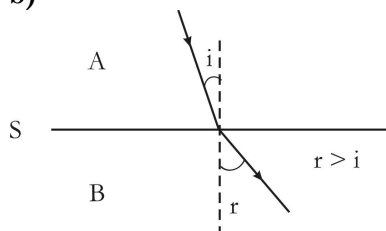
- a) 10m b) 15m c) 20m d) 25m e) 30m

24. Um raio de luz monocromático incide sobre uma superfície, S, que separa dois meios transparentes, A e B, com índices de refração n_A e n_B , respectivamente. Sabendo-se que n_B é maior que n_A , o diagrama que melhor reproduz o fenômeno de refração é:

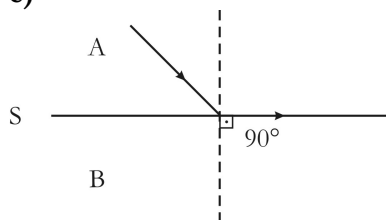
a)



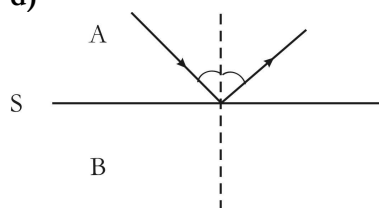
b)



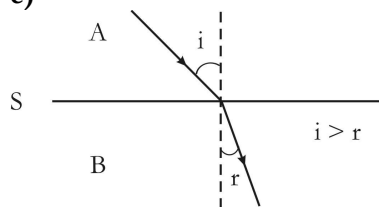
c)



d)



e)



RASCUNHO

29. O tradicional sal de cozinha tem o nome oficial de *cloreto de sódio*, cuja fórmula é $NaCl$.

Sobre o *cloreto de sódio*, é correto afirmar que se trata de:

- a) Substância simples.
- b) Substância composta.
- c) Mistura homogênea.
- d) Mistura heterogênea.
- e) Mistura composta.

30. Os *compostos* químicos são representados por meio de fórmulas, e os *elementos* por meio de símbolos.

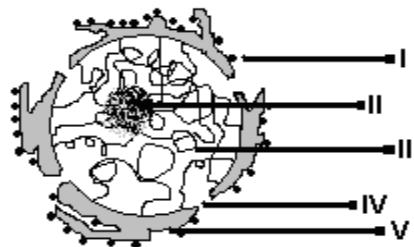
Neste sentido, um *elemento* está representado na alternativa:

- a) H_2O
- b) $NaOH$
- c) $AgCl$
- d) Au
- e) MG

Tabela Periódica																					
CLASSIFICAÇÃO PERIÓDICA DOS ELEMENTOS																					
(COM MASSAS ATÔMICAS REFERENTES AO ISÓTOPO 12 DO CARBONO)																					
1																	18				
1A																	0				
1	2															2					
H 1,0	He 4,0															He 4,0					
3	4															5	6	7	8	9	10
Li 7,0	Be 9,0															B 11,0	C 12,0	N 14,0	O 16,0	F 19,0	Ne 20,0
11	12	3	4	5	6	7	8	9	10	11	12	13	14	15	16	17	18				
Na 23,0	Mg 24,0	3B	4B	5B	6B	7B	8B	9B	10B	11B	12B	Al 27,0	Si 28,0	P 31,0	S 32,0	Cl 35,5	Ar 40,0				
19	20	21	22	23	24	25	26	27	28	29	30	31	32	33	34	35	36				
K 39,0	Ca 40,0	Sc 45,0	Ti 48,0	V 51,0	Cr 52,0	Mn 55,0	Fe 56,0	Co 59,0	Ni 59,0	Cu 63,5	Zn 65,0	Ga 70,0	Ge 73,0	As 75,0	Se 79,0	Br 80,0	Kr 84,0				
37	38	39	40	41	42	43	44	45	46	47	48	49	50	51	52	53	54				
Rb 85,5	Sr 88,0	Y 89,0	Zr 91,0	Nb 93,0	Mo 96,0	Tc (99)	Ru 101,0	Rh 103,0	Pd 106,0	Ag 108,0	Cd 112,0	In 115,0	Sn 119,0	Sb 122,0	Te 128,0	I 127,0	Xe 131,0				
55	56	57	58	59	60	61	62	63	64	65	66	67	68	69	70	71	72				
Cs 133,0	Ba 137,0	La 138,0	Ce 140,0	Pr 141,0	Nd 144,0	Pm (147)	Sm 150,0	Eu 152,0	Gd 157,0	Tb 159,0	Dy 162,5	Ho 165,0	Er 167,0	Tm 169,0	Yb 173,0	Lu 175,0					
87	88	89	90	91	92	93	94	95	96	97	98	99	100	101	102	103					
Fr (223)	Ra (226)	Ac (227)	Th 232,0	Pa (231)	U (238)	Np (237)	Pu (242)	Am (243)	Cm (247)	Bk (247)	Cf (251)	Es (254)	Fm (253)	Md (256)	No (253)	Lr (257)					
Série dos Lantanídeos																					
Série dos Actinídeos																					
Dados: Constante de Avogadro = $6,0 \times 10^{23}$ átomos.mol ⁻¹																					
Produto iônico da água, K_w , a 25 °C = $1,0 \times 10^{-14}$																					
F = 96500 Coulombs R = 0,082 atm.L.mol ⁻¹ .K ⁻¹																					

VIII – BIOLOGIA

31. A figura a seguir representa o núcleo celular, estrutura presente nas células eucariontes



Considerando as estruturas nucleares representadas por I, II, III, IV e V e suas respectivas funções, é correto afirmar:

- a) I corresponde a vesículas enzimáticas aderidas à membrana externa do envoltório nuclear.
- b) II corresponde ao nucléolo, estrutura responsável pela síntese de proteínas.
- c) III corresponde à cromatina, estrutura constituída por moléculas de DNA associadas a proteínas.
- d) IV corresponde ao poro nuclear, estrutura que permite a saída de moléculas de RNA para o citoplasma e impede a entrada de qualquer proteína do citoplasma para o núcleo.
- e) V corresponde à membrana interna do envoltório nuclear.

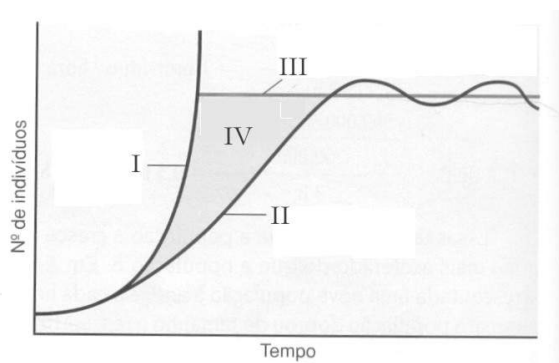
32. Nos embriões de mamíferos eutérios, a nutrição e as trocas gasosas entre o embrião e o meio são realizadas pelo(a)

- a) vesícula vitelínica.
- b) alantóide.
- c) âmnio.
- d) cório.
- e) placenta.

33. Em um cajueiro, o transporte da água e dos sais minerais do solo até as folhas, e o transporte da seiva elaborada (açúcar, aminoácidos, hormônios) das folhas até os locais de consumo, ocorrem, respectivamente, através seguintes estruturas:

- a) Xilema e floema
- b) Floema e xilema
- c) Vasos liberianos e vasos lenhosos
- d) Pêlos absorventes das raízes e xilema
- e) Floema e vasos liberianos

34. O gráfico a seguir representa a curva de crescimento de uma população a partir de um pequeno número de indivíduos iniciais:



AMABIS, Jose Mariano e MARTHO, Gilberto R. **Biologia das populações:** genética, evolução biológica, ecologia. 2, ed.V3 São Paulo: Moderna, 2004. p. 324.

De acordo com os conhecimentos acerca do crescimento de uma população em condições naturais e com a representação gráfica, é correto afirmar:

- a) I representa a curva de potencial biótico, e II, o tamanho populacional máximo suportado pelo ambiente.
 b) IV representa a resistência do meio, e II, a curva de crescimento real.
 c) I representa a curva de potencial biótico, e III, a curva de crescimento real.
 d) IV representa a resistência do meio, e II, o tamanho populacional máximo suportado pelo ambiente.
 e) I representa a curva de crescimento real, e IV, a resistência do meio.
35. Um professor, para ilustrar as aulas de evolução, fez uma excursão pelo interior do Estado da Paraíba. Durante a viagem, em Souza, chamou a atenção dos estudantes para as **pegadas dos dinossauros deixadas nas pedras do fundo do rio**; e, em Cabaceiras, para **troncos de árvores totalmente petrificados**.

De acordo com os conhecimentos sobre fósseis e considerando os objetos das observações feitas pelo professor, é correto afirmar:

- a) Apenas as pegadas dos dinossauros são vestígios fósseis, porque se relacionam com marcas deixadas por animais.
 b) Os troncos petrificados são exemplos de fósseis vivos.
 c) As pegadas dos dinossauros não podem ser consideradas fósseis, por não conterem restos do corpo do animal.
 d) As pegadas dos dinossauros e os troncos petrificados são considerados fósseis, por serem indícios da presença desses organismos na Terra em épocas remotas
 e) As pegadas dos dinossauros e os troncos petrificados são considerados vestígios de eras remotas, mas não podem ser considerados fósseis por não estarem datados com precisão.

IX – LÍNGUA ESPANHOLA

Lea el siguiente texto y responda a las cuestiones de 36 a 40.

La resiliencia

1 La resiliencia es un conjunto de atributos y habilidades innatas para afrontar adecuadamente situaciones
 4 adversas, como factores estresantes y situaciones riesgosas. Algunos autores definen a la resiliencia como la
 capacidad de respuesta inherente al ser humano, a través de la cual se generan respuestas que se adaptan frente a
 situaciones de crisis o de riesgo. Esta capacidad deriva de la existencia de una reserva de recursos internos de
 ajuste y afrontamiento, **ya sean innatos o adquiridos**. De este modo la resiliencia refuerza los factores
 protectores y reduce la vulnerabilidad frente a las situaciones riesgosas (abuso de drogas, suicidio, embarazo
 temprano, fugas de hogar, etc.)

8 La resiliencia para nutrirse y fortalecerse requiere del apoyo social y de la disponibilidad de recursos,
 oportunidades y alternativas de ajuste como factores protectores. Si bien la resiliencia comprende una serie de
 características y habilidades de ajuste propias del individuo o sistema, por lo general se evidencia en situaciones
 adversas o de riesgo.[...]

12 Los seres humanos nacen con la capacidad de hacer frente a las demandas del ajuste de su medio, de
desarrollar habilidades sociales y comunicativas, una consciencia crítica, autonomía y propósito para el futuro.
Lo niños resilientes suelen responder adecuadamente frente a los problemas cotidianos, son más flexibles y
16 sociables, en ellos predomina lo racional, el auto-control y la autonomía. Presentan mayor capacidad de
enfrentar constructivamente la competencia y aprender de los propios errores, capacidad de recurrir al apoyo de
los adultos cuando sea necesario.

20 La actitud orientada para el futuro, optimismo y mayor tendencia a manifestar sentimientos de
esperanza, mayor coeficiente intelectual, capacidad empática, accesibilidad y buen sentido de humor son rasgos y
habilidades que se pueden verse reforzados por la influencia positiva del medio familiar y el apoyo de otros
adultos significativos en la vida del niño. Según Loesel (1992) los niños resilientes suelen vivir en un clima
educacional abierto y con límites claros, cuentan con modelos sociales que motivan el enfrentamiento
24 constructivo, comparten responsabilidades sociales y se ven estimulados por la existencia de expectativas de
logros realistas por parte de los adultos.

Disponível em: <<http://desarrollodelaresilienciaenlaescuela.blogspot.com/2011/04/resiliencia.html>>. Acesso em: 26 .mar. 2012. (Texto adaptado)

36. Teniendo en cuenta el texto, es correcto decir que la resiliencia es la capacidad de
- | | |
|------------------------------------|--|
| a) comunicarse eficazmente. | d) combatir los problemas familiares. |
| b) ajustarse al medio familiar. | e) afrontar a las adversidades de la vida. |
| c) verse en situaciones de riesgo. | |
37. Según el texto, los familiares de niños resilientes suelen
- | | |
|-------------------------------------|---|
| a) exigir mucho de sus niños. | d) respaldar positivamente a sus hijos. |
| b) competir con sus hijos. | e) ser intelectuales. |
| c) sobresalir entre los apoderados. | |
38. Teniendo en cuenta el texto, es correcto decir que los niños resilientes
- | | |
|---|--------------------------------------|
| a) reaccionan desesperadamente a los retos. | d) hacen ejercicios de auto-control. |
| b) presentan tendencia a la autonomía. | e) son evaluados al diario. |
| c) cumplen tareas de alta complejidad. | |
39. En el último párrafo la partícula **se** (línea 23), en destaque, se refiere a:
- | | |
|---|---|
| a) <i>los niños resilientes</i> (línea 21) | d) <i>modelos sociales</i> (línea 22) |
| b) <i>un clima educacional abierto</i> (líneas 21 y 22) | e) <i>responsabilidades sociales</i> (línea 23) |
| c) <i>límites claros</i> (línea 22) | |
40. En el fragmento “Esta capacidad deriva de la existencia de una reserva de recursos internos de ajuste y afrontamiento, **ya sean** innatos o adquiridos” (líneas 4 y 5), los términos en negrita señalan:
- | | |
|-----------------|----------------|
| a) Alternancia | d) Conclusión |
| b) Probabilidad | e) Comparación |
| c) Duda | |